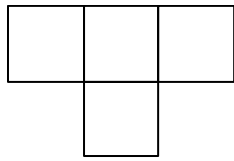
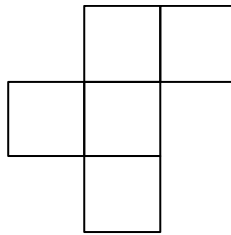


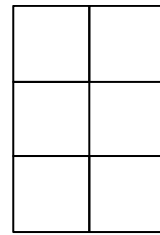
(解説)



真上

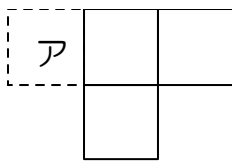


真正面

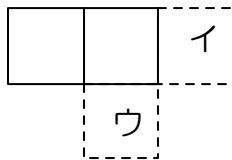


左横

一番上を考えるとアの部分には立方体はありませんから、以下のようなになるでしょう。



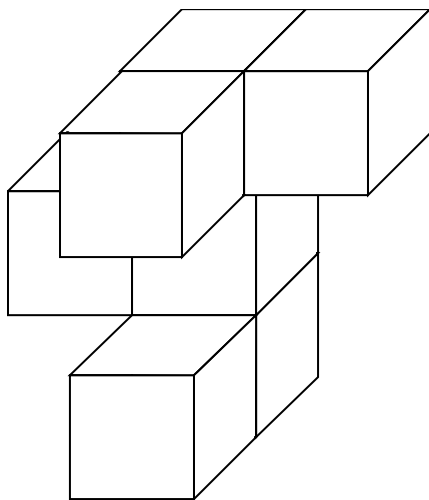
2段目を考えると、イとウの部分には立方体がありませんから、下図のようになります。



さらに3段目は、真正面と左横の図からエとオの位置に立方体はないので下図のようになります。



したがってそれをあわせると下図のような立体になり、7個の立方体が使われています。



(答え) 7個