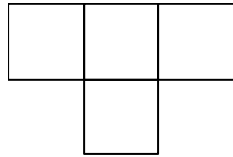


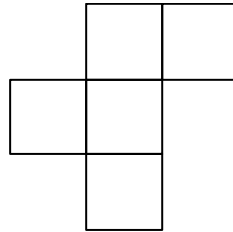
# 算数オンライン塾 10月26日の問題 —立体の問題—

---

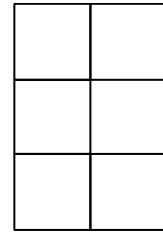
1 辺が 1 cm の立方体を何個か、面と面をはりあわせて 1 つの立体を作りました。この立体を真上、真正面、左横から見たところ、下の図のようになりました。この立体は立方体を何個はりあわせてつくられたものかを答えなさい。



真上



真正面



左横

(式と考え方)