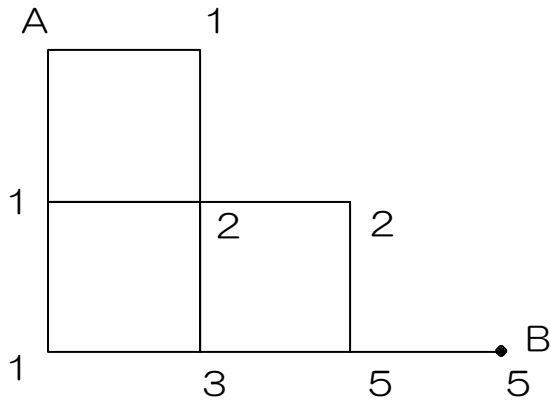


算数オンライン塾 4月24日の問題 解説

(解説と解答)

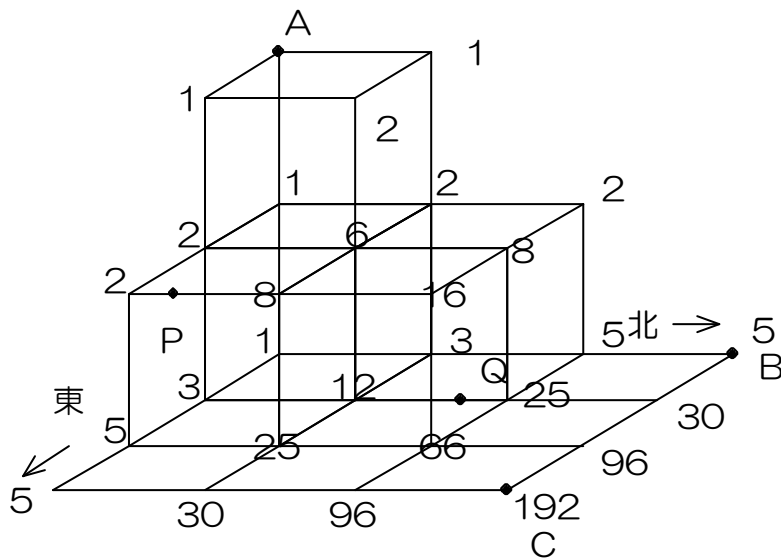
(1)

Bへ行く方法は下図より5通り



(答え) 5通り

Cへ行く方法は下図より 192 通り

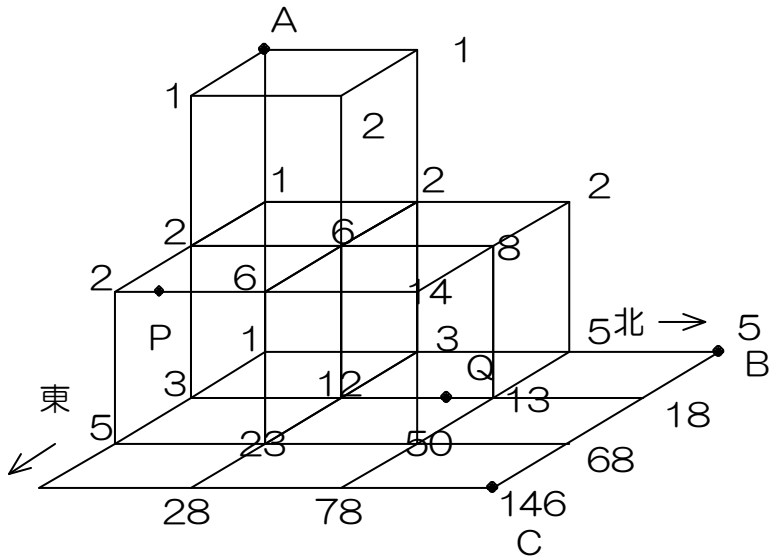


(答え) 192 通り

算数オンライン塾 4月24日の問題 解説

(2) PとQが通れないので、下図のようになります。

立体部分は3方向からの和になりますから、慎重に計算してください。



(答え) 146 通り